



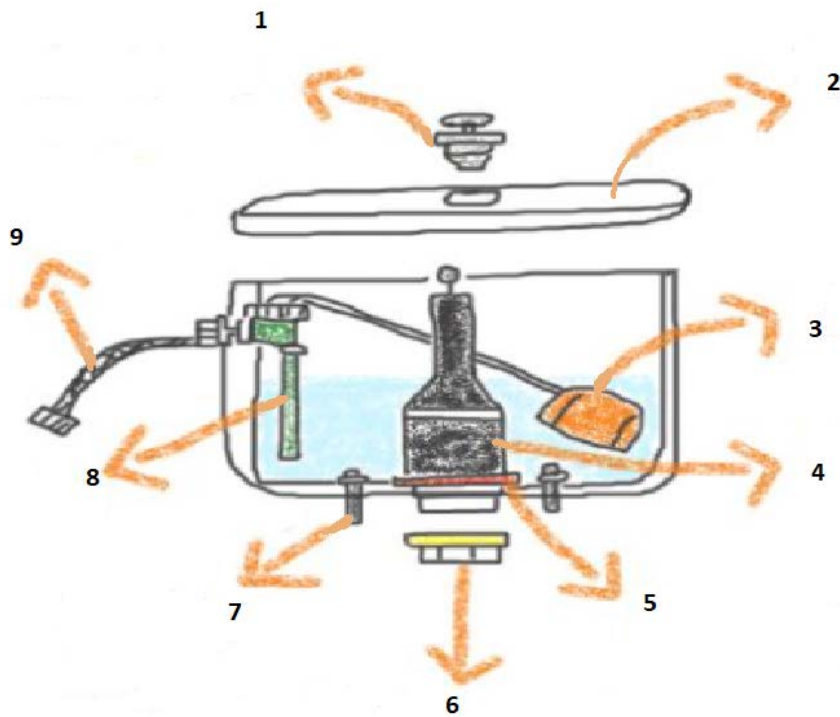
**PRUEBA PRÁCTICA DEL EJERCICIO DE
TÉCNICO ESPECIALISTA II
OFICIO FONTANERO**

UNIVERSIDAD COMPLUTENSE DE MADRID

16 de febrero de 2022

SUPUESTO 1 (18 puntos)

IDENTIFIQUE LAS PARTES DE LA SIGUIENTE CISTERNA DE UN INODORO



1.-

2.-

3.-

4.-

5.-

6.-

7.-

8.-

9.-

SUPUESTO 2 (2 puntos)

IDENTIFIQUE LAS SIGUIENTES HERRAMIENTAS



1.



2.



3.



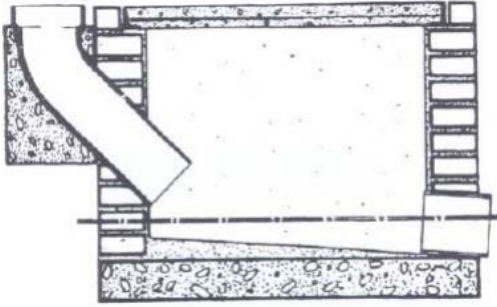
4.



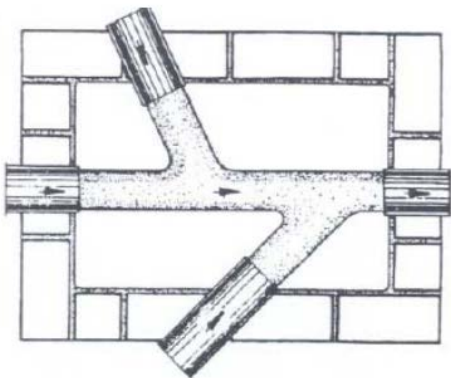
5.

SUPUESTO 3 (4 puntos)

IDENTIFIQUE LAS SIGUIENTES ARQUETAS



1.-



2.-